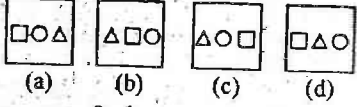


# Hope IAS Academy


108. प्रश्न आकृतियाँ :



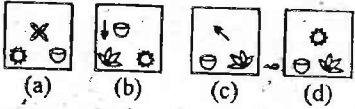
उत्तर आकृतियाँ :



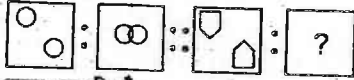
109. प्रश्न आकृतियाँ :



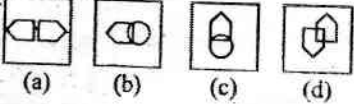
उत्तर आकृतियाँ :



110. प्रश्न आकृतियाँ :



उत्तर आकृतियाँ :

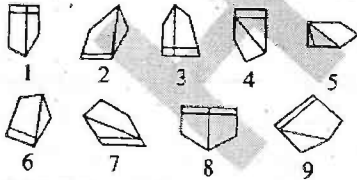


111. निम्नलिखित शब्दों को कोश के अनुसार व्यवस्थित करें:

1. Scenery
2. Science
3. Scandal
4. School
5. Scatter

- (a) 3, 5, 1, 4, 2 (b) 3, 5, 4, 1, 2  
(c) 5, 3, 4, 2, 1 (d) 5, 3, 2, 1, 4

112. नीचे आकृतियों का एक अनुक्रम दिया गया है जिनका वर्गों में समूहन किया जा सकता है। दिए गए विकल्पों में से उस ग्रुप को चुनिए जिसमें आकृतियों को वर्गीकृत किया जा सकता है :



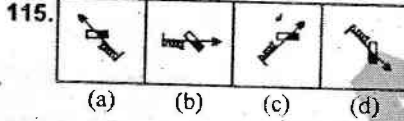
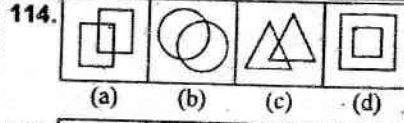
- (a) 1, 4, 8; 6, 9, 5; 2, 3, 7  
(b) 4, 5, 7; 6, 2, 1; 8, 9, 3  
(c) 1, 3, 8; 2, 6, 9; 4, 5, 7  
(d) 9, 7, 2; 3, 4, 5; 1, 6, 8

113. अग्र विकल्पों में से कौन-सा विकल्प नीचे दिए हुए शब्दों का सार्थक क्रम दर्शाता है ?

1. बीज
2. पुष्प
3. मिट्टी
4. पौधा
5. फल

- (a) 4, 2, 5, 1, 3  
(b) 2, 5, 4, 1, 3  
(c) 3, 2, 1, 5, 4  
(d) 3, 1, 4, 2, 5

निर्देश : प्रश्न संख्या 114 से 122 में दिए गए विकल्पों में से विषम शब्द/अक्षर/संख्या/आकृति/युग्म को ज्ञात कीजिए।



115. (a) वर्ग (b) वृत्त  
(c) आयत (d) त्रिभुज
116. (a) मन्दिर (b) मस्जिद  
(c) नाट्यशाला (d) गिरजाघर

117. (a) मीठा (b) कड़वा  
(c) नमकीन (d) स्वादहीन
118. (a) ZMYL (b) VIUH  
(c) REQD (d) ANBO

119. (a) LJNP (b) ECGI  
(c) CAFG (d) SQUW
120. (a) 16-64 (b) 17-68  
(c) 20-100 (d) 21-84

121. (a) 63 (b) 126  
(c) 215 (d) 342

122. दी गयी अक्षर श्रृंखला के खाली स्थानों पर क्रम से रखने पर निम्नलिखित में से कौन-सा अक्षर समूह उसे पूरा करेगा?

- PSR, Q SR, QP R, QPS  
(a) P Q R S (b) P S R Q  
(c) Q P S R (d) Q S P R

निर्देश : निम्नलिखित प्रश्न में आपको निम्नलिखित प्रतीकों के अनुसार दिए गए विकल्पों में से सही उत्तर चुनना है।

124. यदि  $\times$  जोड़ने का,  $<$  घटाने का,  $+$  भाग करने का,  $>$  गुणा करने का,  $-$  बराबरी का,  $\div$  बड़े होने का और  $=$  छोटे होने का चिह्न हो, तो बताइए निम्नलिखित में से कौन-सा सही है ?  
(a)  $5 \times 3 < 7 \div 8 + 4 \times 1$   
(b)  $3 \times 4 > 2 - 9 + 3 < 3$   
(c)  $5 > 2 + 2 = 10 < 4 \times 8$   
(d)  $3 \times 2 < 4 + 16 > 2 \times 4$

निर्देश : प्रश्न संख्या 125 से 131 में दिए गए विकल्पों में लुप्त संख्या/और/आकृति ज्ञात कीजिए।

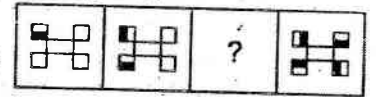
125. 3, 18, 48, 93 ?  
(a) 144 (b) 153  
(c) 175 (d) 186

126. 3, 8, 15, 24, 35 ?  
(a) 44 (b) 40  
(c) 42 (d) 48

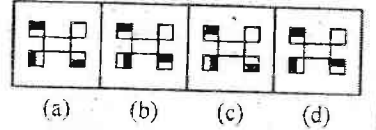
127. DAB, IFG, NKL, ?  
(a) SPQ (b) SOP  
(c) SPO (d) RSQ

128. 7, 18, 40, ?, 117, 172  
(a) 65 (b) 73  
(c) 289 (d) 785

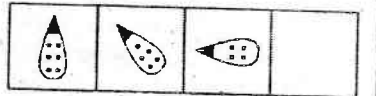
129. प्रश्न आकृतियाँ :



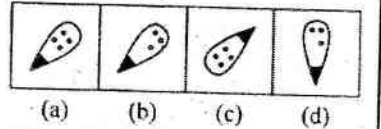
उत्तर आकृतियाँ :



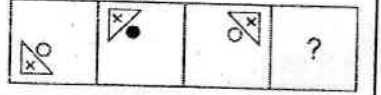
130. प्रश्न आकृतियाँ :



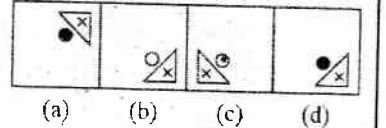
उत्तर आकृतियाँ :



131. प्रश्न आकृतियाँ :



उत्तर आकृतियाँ :



132. किसी कूट भाषा में यदि UNITY को FMRGB लिखा जाता है, तो उसी कूट भाषा में TRANQUIL को कैसे लिखा जायेगा ?  
(a) GIZMJFRO (b) TZMFJROM  
(c) MJROIZBS (d) GMPFZROI